

Français :

Exercice 1 : Grammaire

Recopie chaque groupe nominal, encadre le nom principal et souligne le complément du nom :

la [porte] de la cuisine – une [maison] en bois – mon [cahier] de grammaire – un [sac] à main – cette [pièce] sans fenêtre – sa [citerne] de gaz – le [frère] de mon père – ta [pochette] de feutres

Exercice 2 : Grammaire

Exemple de corrigé :

le voile de la mariée – un placard avec des portes coulissantes – la tasse sans anse – une tarte au chocolat – un bracelet avec des élastiques – un verre à moutarde

Exercice 3 : Conjugaison

Ecris ce texte au futur :

Quelques flocons de neige tomberont sur les Alpes. La pluie arrosera les autres massifs montagneux. Sur la région parisienne, le soleil fera quelques apparitions. Partout ailleurs, le ciel restera couvert. Les températures seront basses pour la saison.

Exercice 4 : Grammaire

Exercice 5 : Vocabulaire : La campagne

Associe les animaux de la ferme à l'endroit où ils vivent.

- | | |
|--------------|------------------|
| a. une poule | 3. un poulailler |
| b. un cochon | 4. une porcherie |
| c. un lapin | 1. un clapier |
| d. une vache | 5. une étable |
| e. un cheval | 2. une écurie |

Exercice 6 : Orthographe, dictée

Exercice 7 : Lecture orale

Mathématiques :

Exercice 8 : Calcul

$$48\,403 : 5 \text{ ? quotient} = 9680 \text{ reste} = 3$$

$$13\,248 : 25 \text{ ? quotient} = 529 \text{ reste} = 23$$

$$13\,614 : 41 \text{ ? quotient} = 332 \text{ reste} = 2$$

Exercice 9 : Numération

Quel est le nombre
le plus proche de 3 ?

2,9 ou 3,2

Quel est le nombre
le plus proche de 8 ?

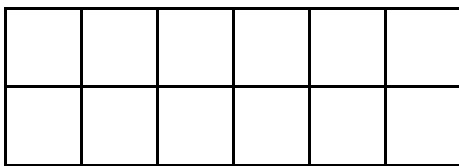
7,4 ou 8,5

Quel est le nombre
le plus proche de 12 ?

11,8 ou 12,3

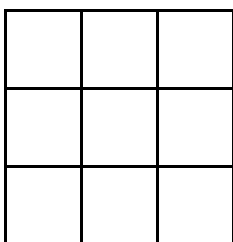
Exercice 10 : Géométrie

Indique l'aire des figures suivantes, en écrivant les calculs



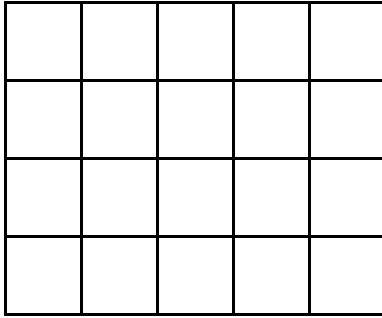
$$\text{Calcul : } 2 \times 6 = 12$$

$$\text{Aire : } 12 \text{ cm}^2$$



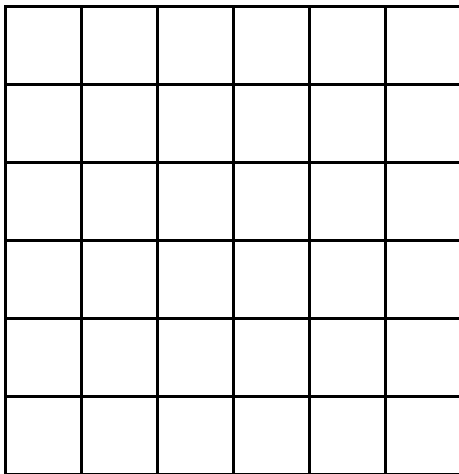
$$\text{Calcul : } 3 \times 3 = 9$$

$$\text{Aire : } 9 \text{ cm}^2$$



Calcul : $5 \times 4 = 20$

Aire : 20 cm^2



Calcul : $6 \times 6 = 36$

Aire : 36 cm^2

Exercice 11 : Calcul mental

Demande à un adulte de te chronométrer . Soit tu écris le plus possible de résultats en une minute, soit tu indiques ton temps (ex : 3 min 40 s).

$$12 : 6 = 2$$

$$20 : 4 = 5$$

$$3 : 1 = 3$$

$$28 : 7 = 4$$

$$8 : 2 = 4$$

$$18 : 6 = 3$$

$$27 : 9 = 3$$

$$9 : 3 = 3$$

$$16 : 4 = 4$$

$$36 : 9 = 4$$

$$24 : 3 = 8$$

$$4 : 1 = 4$$

Exercice 12 : Résolution de problèmes