


Géographie

Si tu te souviens bien, le bus de touristes s'était arrêté à Nîmes, pour découvrir les créations romaines. Les touristes ont pu observer les arènes



de Nîmes et la Maison carrée, situées au centre de la ville de Nîmes. Puis aux environs de la ville, ils ont



découvert le Pont du Gard et les routes pavées



Grâce à la visite de cette ville, nous nous sommes intéressés à l'Antiquité, période durant laquelle les Gaulois et les Romains ont vécu.

Il est l'heure de prendre une nouvelle direction, pour cela prends ta carte de France (Document 30) dans ton classeur en géographie.

1. Le bus se dirige vers le point n° 3 la ville **RAMBURES** ! Colorie en jaune l'étoile 3 sur la carte mais aussi en bas du document 30, à la suite de LASCAUX ET NIMES.

LA CARTE DE L'ITINÉRAIRE DES TOURISTES EN FRANCE 30

POINTS	LIGNES	SURFACES
AÉROPORT	ROUTE PRINCIPALE	MONTAGNES
VILLE	ROUTE SECONDAIRE	_____
SITE HISTORIQUE		_____

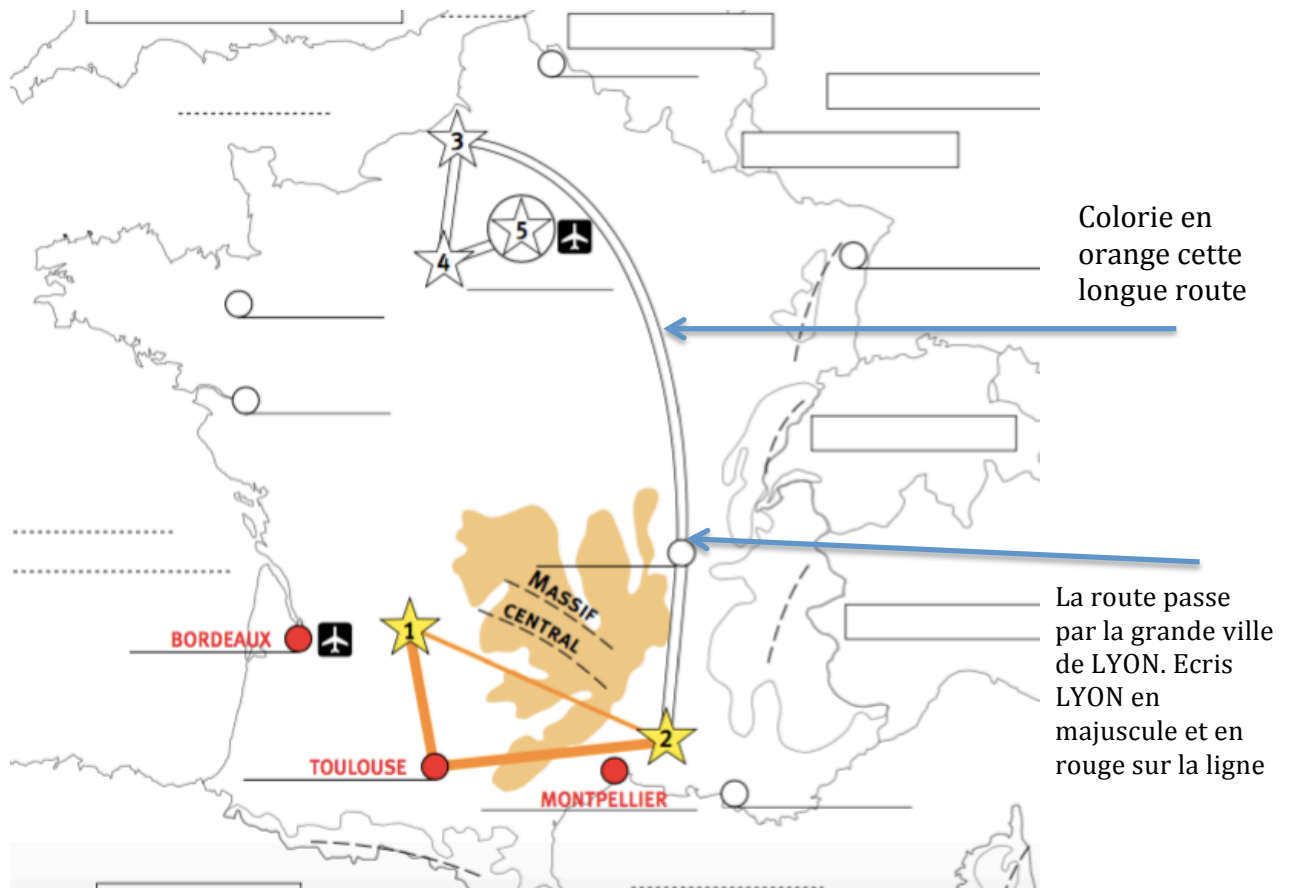
★ LASCAUX ★ NÎMES ★ _____ ★ _____ ★ _____

Colorie ici l'étoile 3 en jaune

Colorie l'étoile en jaune et écris **RAMBURES** sur les pointillés.

2. Pour se rendre à Rambures (Etoile n°3) le bus utilisera la route principale qui relie l'étoile 2 à l'étoile 3. Colorie cette route en orange comme nous l'avions indiqué dans notre légende.

3. Cette longue route passe par une grande ville française qui s'appelle **LYON** que tu écriras en **ROUGE** et en **MAJUSCULE** sur ta carte, comme nous l'avions fait pour d'autres grandes villes (**BORDEAUX**, **TOULOUSE**, **MONTPELLIER**).



4. Rambures est une ville située au nord de la France, elle est très proche de la mer. Connais-tu le nom de cette mer ?

Indice : cette mer sépare la France et l'Angleterre.

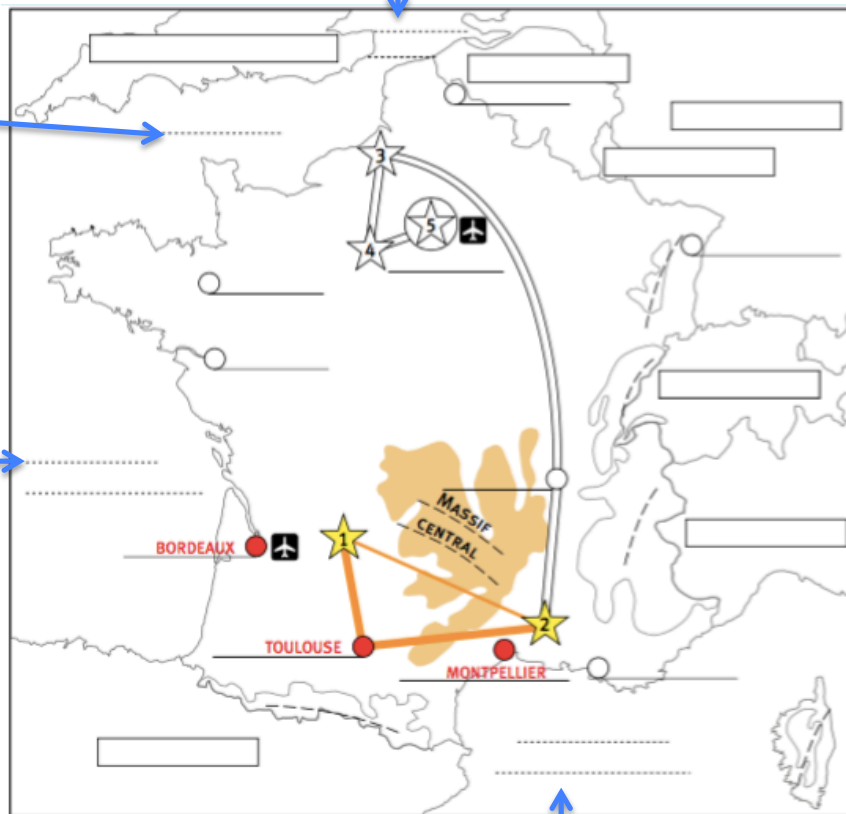
Réponse : c'est la MANCHE.

Nous allons nous intéresser aux mers et océan qui bordent la France, c'est à dire qui « entourent » la France.

2. Ici se trouve la Manche. Ecris Manche au stylo bleu sur les pointillés.

1. Ici se trouve la mer du Nord. Elle est située tout au nord de la France. Ecris Mer du Nord au stylo bleu sur les pointillés.

3. Au sud-ouest de la France, nous retrouvons l'Océan Atlantique. C'est le seul océan qui entoure la France. Ecris Océan Atlantique au stylo bleu et sur les pointillés.

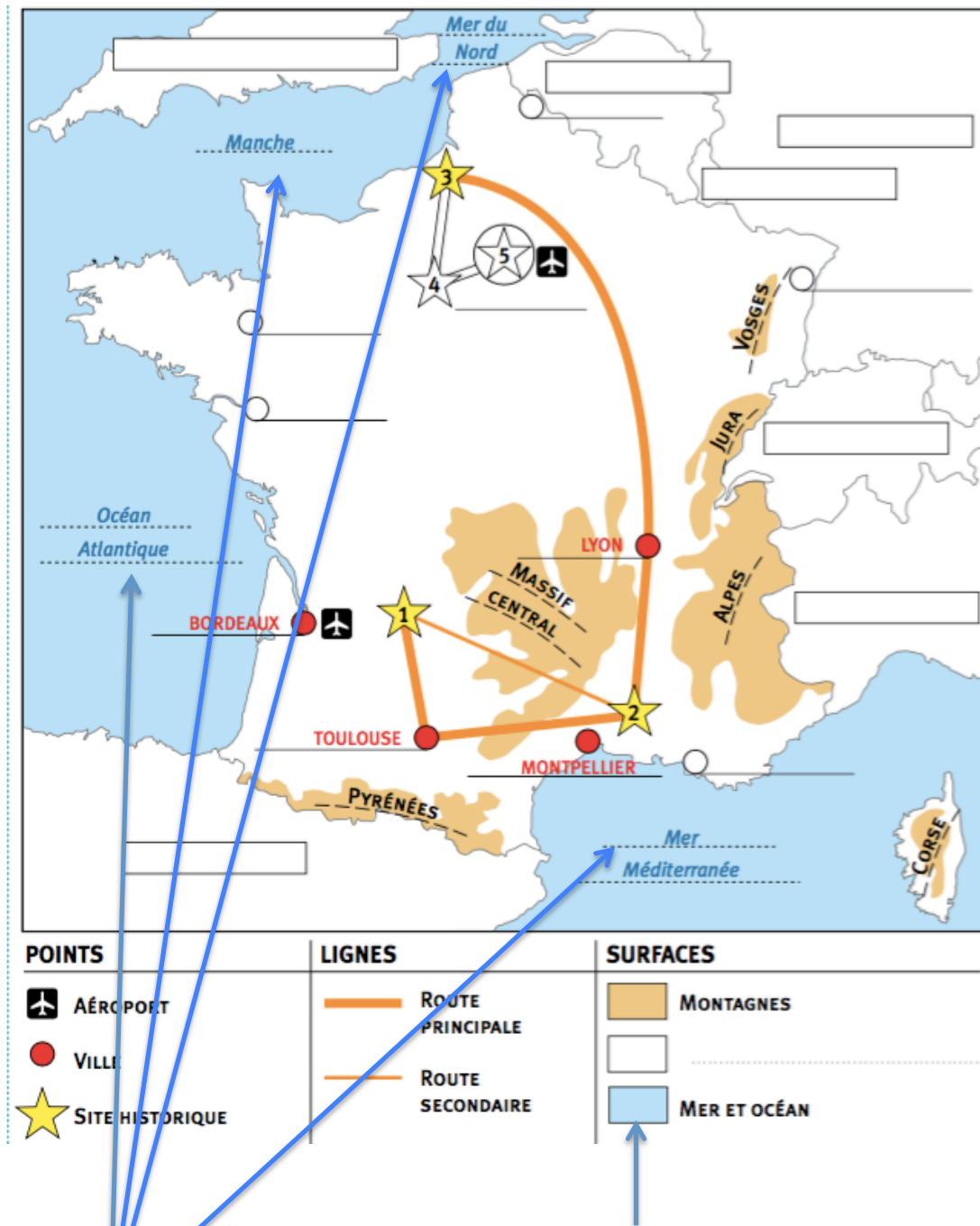


4. La Méditerranée si situe tout au sud de la France. Ecris Mer Méditerranée au stylo bleu et sur les pointillés.

Voilà, aujourd'hui nous avons découvert la nouvelle destination de nos touristes, située tout au nord de la France, la ville Rambures. Cette nouvelle destination nous a permis d'évoquer toutes les étendues d'eau (mers et océan) qui bordent la France. Nous en retrouvons 4 que tu dois connaître par cœur et que tu dois savoir situer :

1. La Mer du Nord
2. La Manche
3. L'Océan Atlantique
4. La Mer Méditerranée

Pour terminer, colorie toutes ces étendues d'eau en bleu et ajoute dans la légende « Mer et Océan ».



1. Colorie en bleu toutes les étendues d'eau qui représentent les mers et océan.