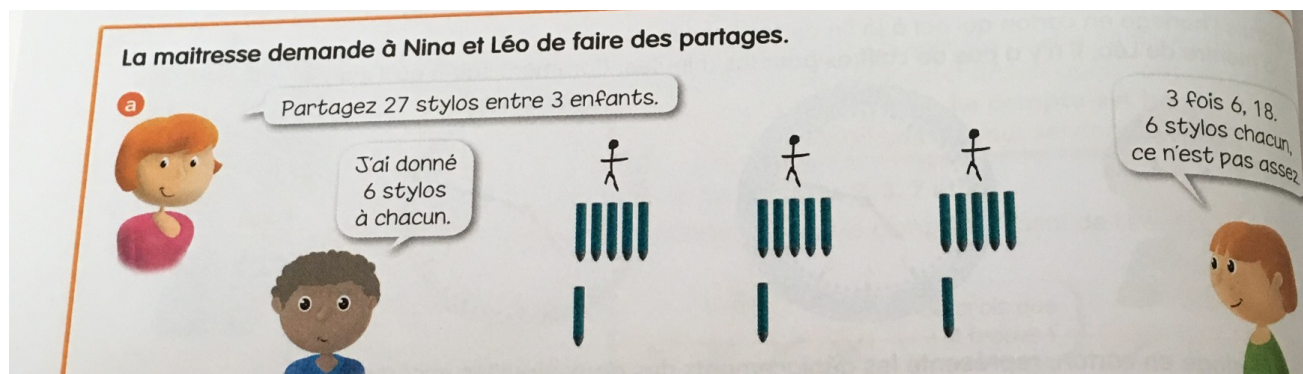


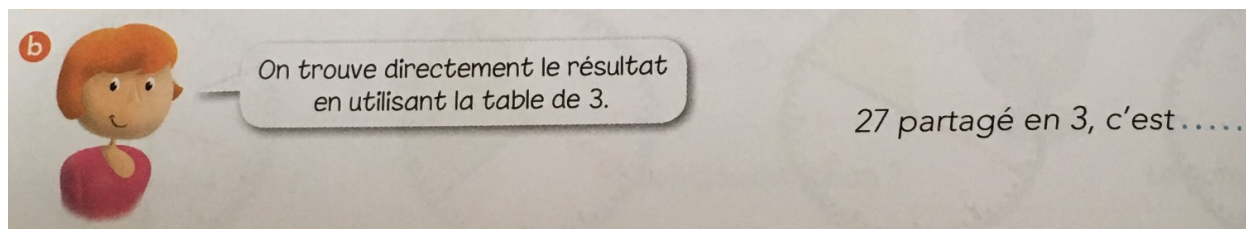
ULIS Fontaine / CE2 Mathématiques /
18 et 19 mai 2020

Lundi 18 mai 2020 :



A toi de le faire : Partage 27 stylos entre 3 enfants :

Chaque enfant va recevoir : _____ stylos.



$$9 \times 3 = 27$$

Tu peux utiliser tes tables de multiplication pour faire le travail suivant.
Attention cependant : Tu dois les connaître par coeur, il faut que tu les révises, si nécessaire.

16 partagé en 2, c'est.....	15 partagé en 5, c'est.....	40 partagé en 10, c'est.....
24 partagé en 4, c'est.....	12 partagé en 2, c'est.....	12 partagé en 6, c'est.....
21 partagé en 3, c'est.....	14 partagé en 7, c'est.....	25 partagé en 5, c'est.....
40 partagé en 5, c'est.....	27 partagé en 9, c'est.....	20 partagé en 4, c'est.....

J'ai appris Quand on connaît bien la table de 3, c'est facile de partager 6, 9, 12, 15, 18, 21, 24, 27 et 30 en 3 parts égales.
On cherche « **3 fois combien font...** ».

Aide (1ère colonne) :

$$8 \times 2 = 16$$

$$6 \times 4 = 24$$

$$7 \times 3 = 21$$

$$8 \times 5 = 40$$

A toi de continuer...

→ Enigmes (Document joint).

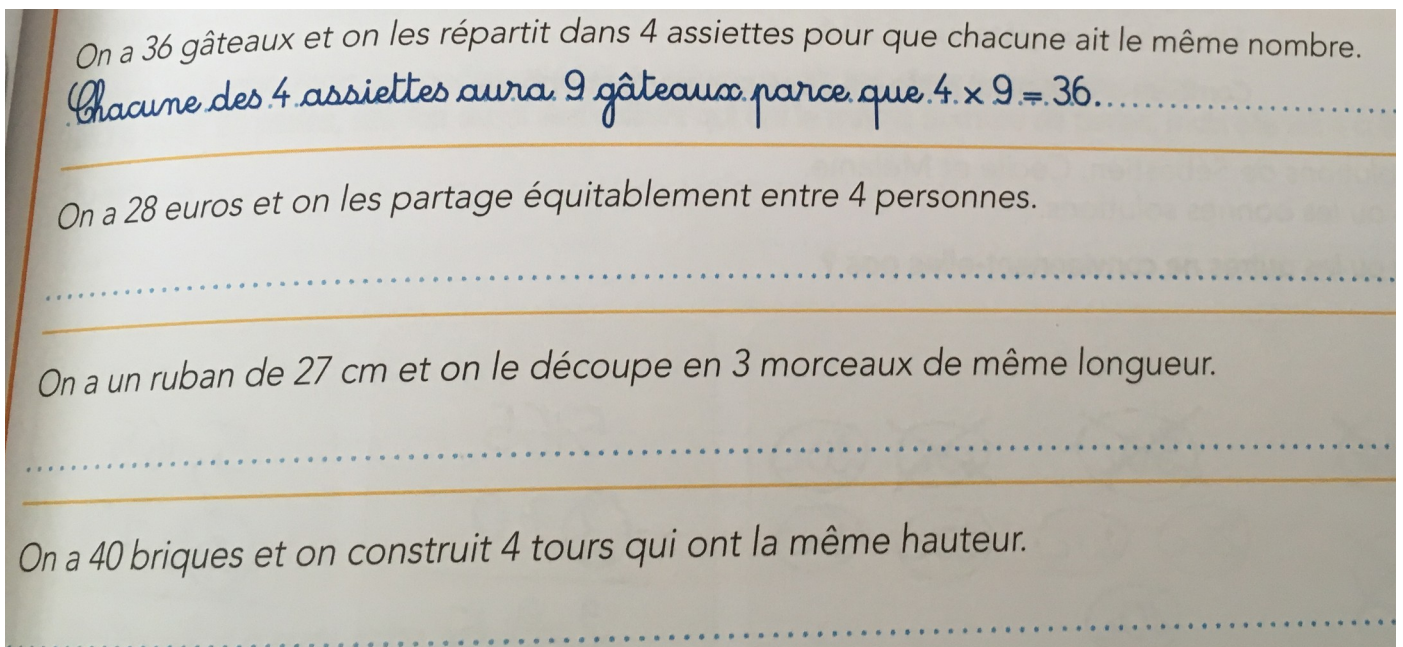
Mardi 19 mai 2020 :



Tu vas faire comme hier.

Tu as besoin de bien connaître les tables de 3 et 4.

1. 'équitablement' : Chaque personne recevra **la même somme d'argent**.
2. Quand on aura découpé le ruban de 27 centimètres en 3 morceaux, **les 3 morceaux auront la même longueur**.
3. Les 4 tours auront **la même hauteur** (les briques sont toutes les mêmes).



→ Enigmes (Document joint).