

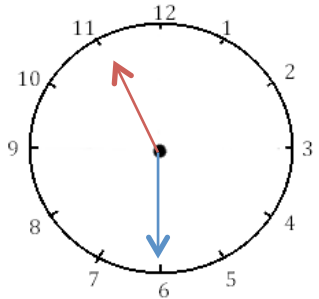
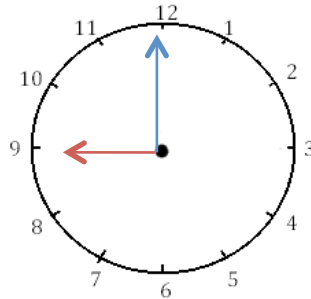
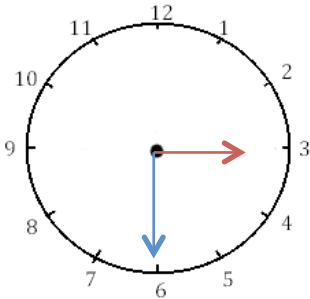


Mesures

Fiche 4

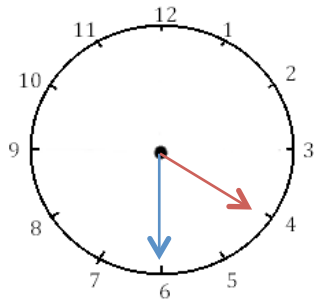
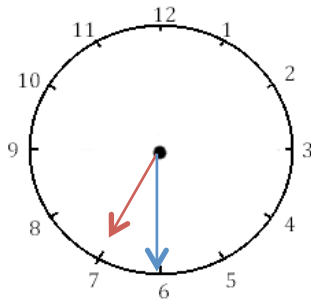
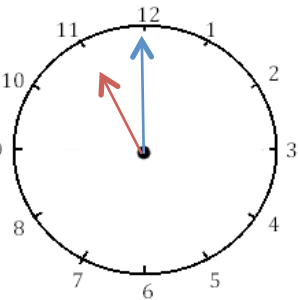
Les heures

1 J'écris les heures indiquées sur ces horloges. Nous sommes le matin.



Il est 3 h et 00 min. Il est 9 h et 00 min. Il est 11 h et 30 min.

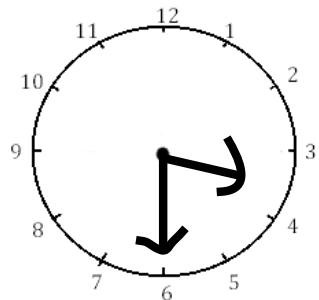
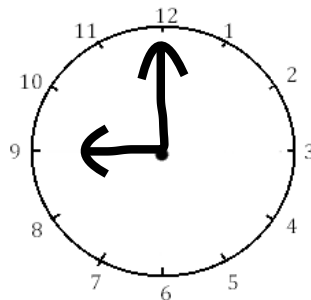
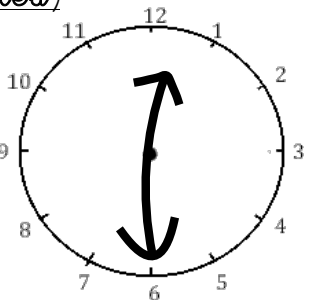
2 J'écris les heures indiquées sur ces horloges. Nous sommes l'après-midi.



Il est 2 h et 00 min. Il est 7 h et 30 min. Il est 4 h et 30 min.

3 Je place les aiguilles selon les heures indiquées. (heures en rouge, minutes

bleu)



Il est 12 h 30 min.

Il est 9 h 00 min.

Il est 3 h 30 min.