

La semaine dernière nous avons parlé du tourisme. Peux-tu répondre à ces questions ?


- Qu'est-ce qu'un touriste ?
- Cite au moins trois lieux touristiques différents.
- Que signifie le mot « séjourner » ?
- Quels types d'aménagements sont nécessaires pour accueillir des touristes ?

Aujourd'hui et durant les prochaines séances nous allons étudier un paysage touristique particulier : celui de la ville de Menton. Cherche dans un dictionnaire ou sur internet où est située cette ville. A ton avis quel type de tourisme va-t-on y rencontrer ?

Etude de document :

Doc. 1 **Menton, un lieu touristique**

- 1 À l'aide de cette carte postale, qu'apprends-tu sur Menton ?
- 2 Aimerais-tu y passer des vacances ? Explique ta réponse.



Carte postale de Menton (Alpes-Maritimes)

APPROFONDIR

- D'après cette carte postale quels sont les attraits de Menton ?
- Réponds aux deux questions du manuel en expliquant bien tes réponses.

Lis ces définitions :

*** Lexique**

la côte : une bande de terre qui longe une mer ou un océan.

un port de plaisance : un port pour les bateaux de loisir.


une station balnéaire : un lieu touristique en bord de mer.

Etude de document :



Doc. 2

Le paysage d'une station balnéaire*



- 3 Que vois-tu le long de la côte* ?
- 4 Décris les bâtiments.
- 5 Que vois-tu à l'arrière-plan ?

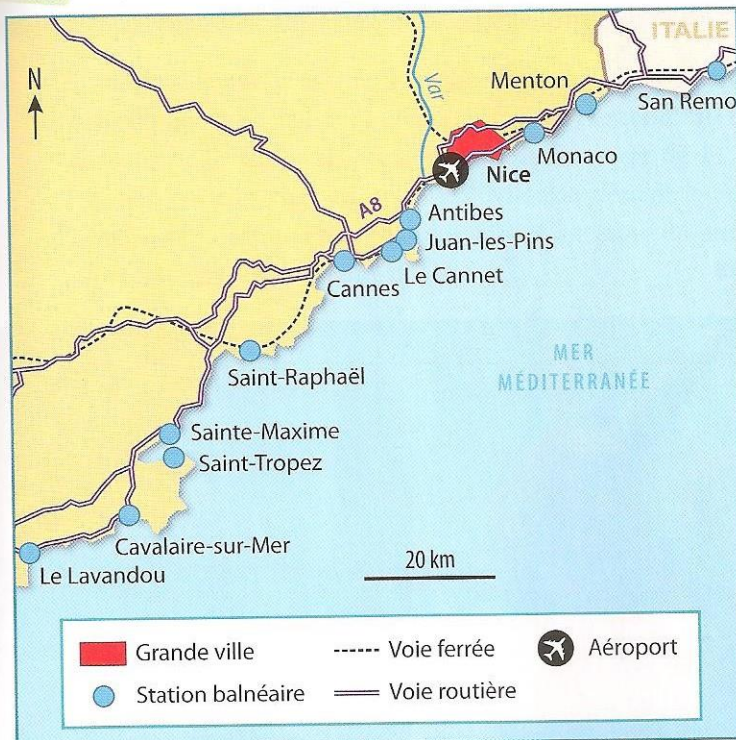
La ville de Menton (Alpes-Maritimes).

- En appliquant ce que nous avons vu dans les premières leçons de géographie fais l'analyse de cette photo de paysage (n'hésite pas à relire tes premières leçons de géo).
- Réponds aux questions du manuel.

Etude de document :

Doc. 3

Menton, un espace touristique de la Côte d'Azur



- 6 Où se situe Menton en France ?
- 7 Comment les touristes peuvent-ils se rendre à Menton ?

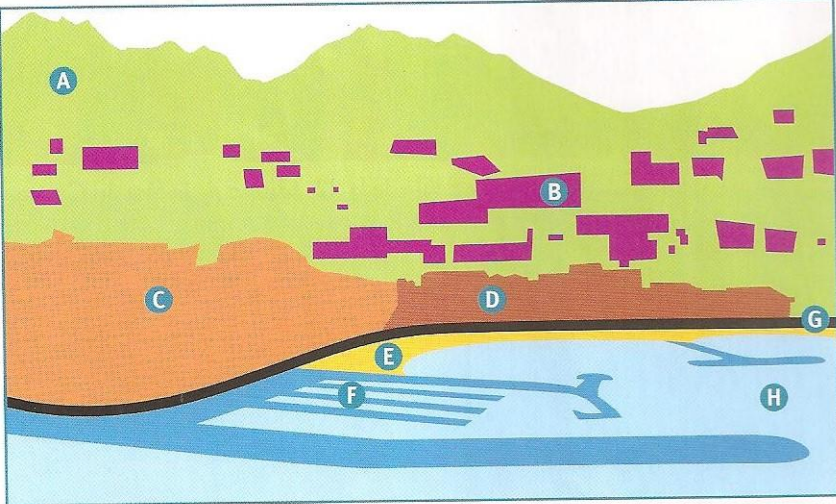
Carte de la Côte d'Azur.

- Quelle est la grande ville la plus proche de Menton ?
- Connais-tu le nom de certaines des stations balnéaires citées dans la légende ?

- Réponds aux questions du manuel.
- As-tu déjà passé des vacances dans cette région ?
- Si oui explique ce que tu as aimé là-bas.
- Si non penses-tu que tu aimerais y passer quelques jours ? pourquoi ?

Etude de document :

Doc. 4 **L'organisation du paysage de Menton**



8 À l'aide de la photographie du Doc. 2, indique à quelles lettres correspondent les éléments suivants : les immeubles, le port de plaisance*, la route, la végétation sur la montagne, la mer, la plage, la vieille ville, les constructions sur la montagne.

Croquis du paysage de Menton.

Nous allons étudier un nouveau type de document : un croquis. Il s'agit d'un dessin qui représente les formes avec une légende et des couleurs pour les différencier.

Tu as sans doute remarqué que ce croquis représente le paysage photographié dans le doc2. A droite du croquis tu as tous les éléments de la légende. Sur le dessin tu as des lettres. Il faut les relier entre elles. A toi de jouer !

A	Les immeubles
B	Le port de plaisance
C	La route
D	La végétation sur la montagne
E	La mer
F	La plage
G	La vieille ville
H	Les constructions sur la montagne

Ensuite colorie **en vert** dans ta légende les éléments naturels et **en jaune** ceux qui ont été construits par l'homme. Lesquels sont utiles à l'activité touristique ?

Si tu peux imprimer tu colleras le croquis et la légende sur ton cahier. Puis tu recopieras la leçon ci-dessous. IL s'agit de la suite de Géo19 donc tu restes sur la même page et tu sautes une ligne.

Un exemple : **la ville de Menton** située sur la Côte d'Azur. C'est une **station balnéaire** : un lieu touristique en bord de mer. Pour accueillir les visiteurs on a construit des routes, un **port de plaisance**, des immeubles en front de mer. Les touristes sont attirés par la vieille ville, les activités nautiques, la baignade sur la plage, les promenades dans l'arrière-pays montagneux ou le long de la **côte**.....