



# nombrer, numéroté

À ton tour 

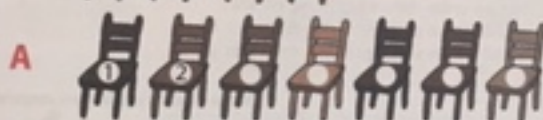
4 Avec les pièces d'un jeu, Néo et Mila ont construit une rue de village. Ils notent sur des cartons les numéros qu'ils inscriront sur les maisons. Mila prend les numéros impairs, Néo les numéros pairs.



Peux-tu les aider en complétant le dessin ?

5 Pour le spectacle de l'école, Néo et Mila aident à disposer et numéroté les chaises.

a. Continue de numéroté les chaises déjà disposées.



b. Mila retient pour son amie Lucie la chaise n°5 de la rangée A, et Néo pour son ami Samir, la chaise n°3 de la rangée B.

Entoure en rouge la chaise réservée à Lucie, en bleu la chaise réservée à Samir.

c. Combien de chaises faut-il pour compléter la rangée B ?

d. Colorie celles qu'il faudra prendre dans le tas d'à côté.

6 Entoure les nombres qui comptent,

barre ceux qui sont des numéros.

- Il y a 5 personnes dans le jardin du 5 rue des Rosiers.
- On a retrouvé la voiture à la place 31, parmi les 45 voitures garées à ce niveau.
- Il y a 50 places dans ce petit théâtre ; nous avons les places 18 et 19.