
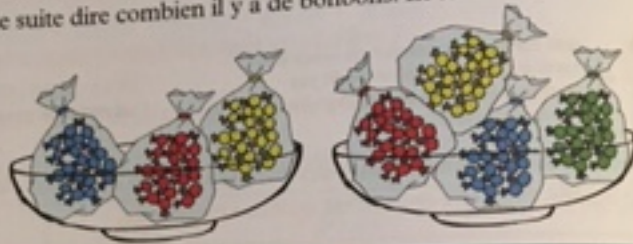


Recherche 

Que de bonbons !


1 Némó et Mila ont vu chez un confiseur des coupes pleines de sacs de bonbons. Les gros sacs contiennent 20 bonbons. Mila dit qu'elle sait compter des « vingt » et qu'elle peut tout de suite dire combien il y a de bonbons. Et toi ?

 Complète le tableau.





en vingt	trois vingt
en mots habituels		
en chiffres		

2 Némó a vu des coupes où il s'est glissé un petit sac de 10. Lui aussi peut dire très vite combien il y a de bonbons dans chaque coupe. Et toi ?

 Complète le tableau.



en vingt et dix	trois et un vingt et
en mots habituels		
en chiffres		

3  Continue la frise, et  colorie-la à ton goût.

