

- Connaissez-vous d'autres petits mots du même type ?

Je retiens

- Les **déterminants** sont des petits mots qui se placent **devant un nom**. Ils indiquent si le nom est :

- **masculin** (*le, l', un, mon, ton, son, ce, cet*) ou **féminin** (*la, l', une, ma, ta, sa, cette*).
- **au singulier** ou au **pluriel** (*les, des, mes, tes, ses, ces*).

le coq, une coquille, mes poules, ces poussins


- *le, la, l'* et *les* sont des **articles définis**.
- *un, une* et *des* sont des **articles indéfinis**.

Reconnaitre les déterminants

- 1 * Classe les noms et les déterminants qui les accompagnent dans le tableau.

déterminants et noms au singulier	déterminants et noms au pluriel
b.	a.

- | | | | |
|-------------------|--------------------|-------------------|-----------------|
| a. les dinosaures | e. des oiseaux | i. tes livres | m. ta robe |
| b. la terre | f. mon chat | j. l'arbre | n. ton pantalon |
| c. un poisson | g. cette photo | k. des fleurs | o. ses gants |
| d. le soleil | h. mes coquillages | l. tes chaussures | p. ma montre |

2  * Classe les noms et les articles dans le tableau.

articles définis + noms	articles indéfinis + noms

l'hirondelle • la peinture • des crayons •
un téléphone • une feuille • un papier •
le garage • les sièges • une bibliothèque •
le calendrier • l'ascenseur • des oranges

3 ** Dans le texte, relève les noms et leurs déterminants.

L'autruche est un oiseau qui ne peut pas voler. Il est le plus grand de tous les oiseaux vivant sur la Terre. Les autruches sont aussi des championnes de course à pied capables de courir à la vitesse de 80 kilomètres à l'heure ! Leurs plumes sont utilisées dans la fabrication de costumes.

4 ** Dans chaque liste de déterminants se cache un intrus. Recopie les listes sans l'intrus.

Défi lan

Complète
qui com
les mo
a. les .
b. un .

6 * C
un dé
a. ... h
b. ...
c. ...
d. ...

7 *
les c

a. .
j'e
b. .
fe
c. .



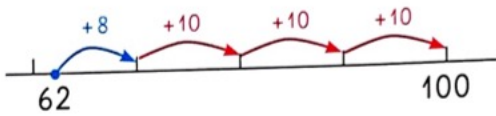
Je prépare l'évaluation (4)

CALCUL MENTAL

Voir le guide pédagogique.

--	--	--	--	--	--	--	--

1 Complète.



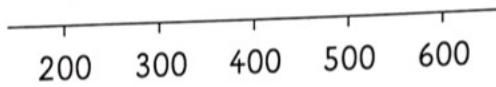
$$62 + \dots = 100$$

$$85 + \dots = 100$$

2 La température, lundi matin à 8 heures, était **15** degrés. Lundi soir à 17 heures, la température est **20** degrés. Quel est l'écart de température entre ces deux moments de la journée ?

écart :

3 Entre quelles centaines est situé chaque nombre ?



346 est situé entre et

435 est situé entre et

4 Place les nombres.



5 Calcule.

$$300 + 50 + 7 + 100 = \dots$$

$$20 + 600 + 8 + 30 = \dots$$

$$2 + 30 + 500 + 4 = \dots$$

$$564 - 4 = \dots$$

$$564 - 500 = \dots$$

$$564 - 60 = \dots$$

6 Calcule.

$$287 - 45$$




$$356 - 104$$



$$478 - 36$$



$$529 - 205$$



7 Complète pour faire 1 km.

500 m + = 1 km

800 m + = 1 km

600 m + = 1 km

950 m + = 1 km

1 km, c'est 1 000 m.



8 Pose et effectue les opérations.

936 - 415

416 + 308

453 + 24 + 352



9 **Problème** Sofiane doit lire un livre de 90 pages. Il lit 15 pages le premier soir, et 25 pages le deuxième soir. Combien de pages lui reste-t-il à lire ?

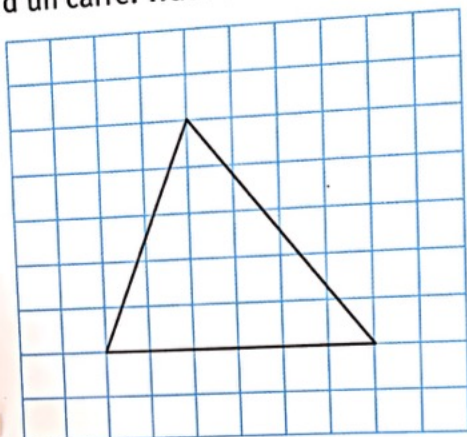


10 **Problème** Sur son album, Tony doit coller 5 photos par page. Il a 15 photos à coller.

Combien de pages va-t-il remplir ?



11 Le triangle doit être à l'intérieur d'un carré. Trace le carré.



12 • Écris le nom de ce solide.



• Complète le tableau.

nombre de faces
nombre de sommets
nombre d'arêtes