

Mon prénom : \_\_\_\_\_

## Problèmes complémentaires

Vendredi 15 mai

**Résous les problèmes.**

### **Problème 1**

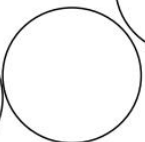
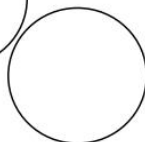
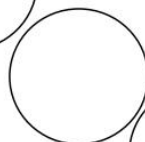


Quelle flèche va traverser la pomme ?



Réponse :


### **Problème 2**

La grenouille fait des sauts pour rentrer dans sa maison.  
Ecris le numéro de la pierre qui est devant sa maison.



### **Problème 3**

Groupe les nombres par deux pour que leur somme soit égale à 13.  
Quelle est la somme des 2 nombres qui restent ?



Réponse :

### **Problème 4**

Dans un vase, il y a 16 fleurs, des roses et des tulipes. Il y a 5 roses.  
Combien y a-t-il de tulipes ?

Dessin et calcul

Il y a ..... dans le vase.