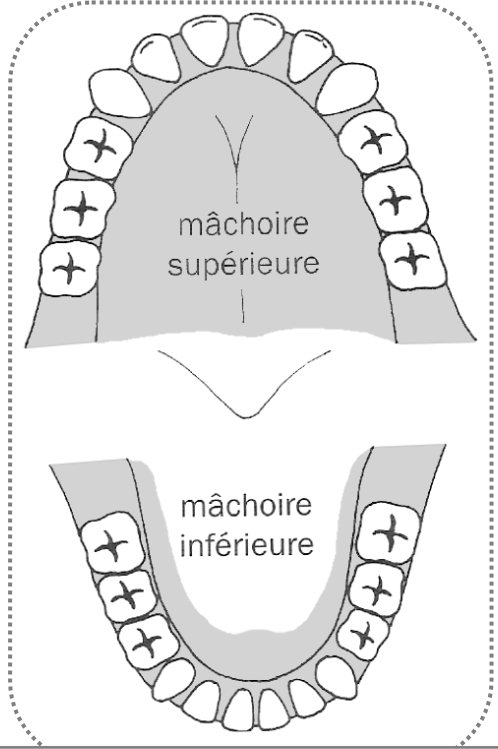


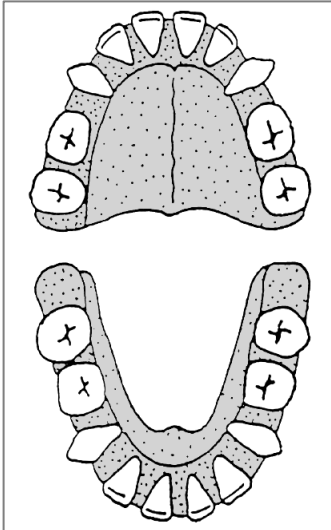
**1** Complète la légende.  
Puis colorie les dents sur le schéma selon cette légende.

	<input type="text"/>
	<input type="text"/>
	<input type="text"/>

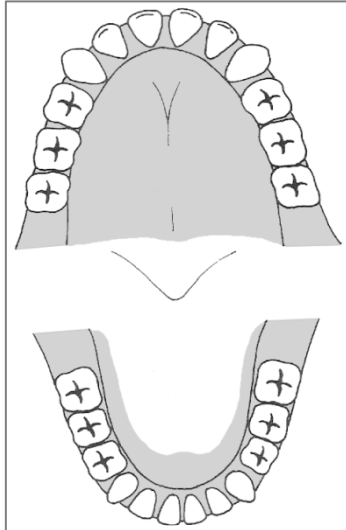


Dentition de l'enfant à 7 ans

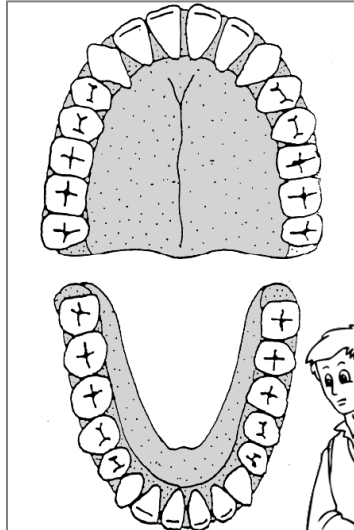
**2** Complète avec le nombre de dents de chaque sorte.



à 5 ans...



À 7 ans...



à l'âge adulte...

	<input type="text"/>
	<input type="text"/>
	<input type="text"/>



	<input type="text"/>
	<input type="text"/>
	<input type="text"/>

	<input type="text"/>
	<input type="text"/>
	<input type="text"/>

