



articles définis + noms 1	articles indéfinis + noms 2

l'hirondelle¹ • la peinture¹ • des crayons² •
 un téléphone² • une feuille² • un papier² •
 le garage¹ • les sièges¹ • une bibliothèque² •
 le calendrier¹ • l'ascenseur¹ • des oranges²

3 ** Dans le texte, relève les noms et leurs déterminants.

L'autruche est un oiseau qui ne peut pas voler. Il est le plus grand de tous les oiseaux vivant sur la Terre. Les autruches sont aussi des championnes de course à pied capables de courir à la vitesse de 80 kilomètres à l'heure ! Leurs plumes sont utilisées dans la fabrication de costumes.

4 ** Dans chaque liste de déterminants se cache un intrus. Recopie les listes sans l'intrus.

- a. le • la • je • des • un
- b. ce • cette • nous • son • sa
- c. mes • mon • tes • ses • c'est
- d. un • une • des • les • laid

Utiliser les déterminants

5 ***** Associe les articles au nom qu'ils peuvent accompagner.



Il peut y avoir plusieurs solutions.

qui convien
les mots ?
a. les ...
b. un ...

6 * Compl
un détermin
a. ... horloge
b. ... tableau
c. ... matin
d. ... épong

7 ** Com
les détermi
le ma

- a. ... petite
j'en ai assez
- b. Va vite à
ferme !
- c. ... soir, p
... lampes.
- d. Nous avo
au chocolat
- e. ... cousin
allons bien

8 * Fais
dans cett

cette) ;

- b. ... nous avons •
tu avais
c. il cloua • je clouais • tu clouais •
elles clouaient


3 ** Relève les verbes conjugués à l'imparfait dans le texte.

Un roi, une reine et leur petite princesse vivaient dans un très beau château. Ils étaient heureux parce qu'ils s'aimaient, et aussi parce qu'ils possédaient un âne magique. Voyez-vous, cet âne ne faisait jamais de crottes. À la place, chaque matin, il déposait sur la paille plein de pièces d'or ! Grâce à cette merveille, la vie s'écoulait, belle et sans souci.

D'après Charles Perrault,
Peau d'âne.



Conjuguer à l'imparfait les verbes en -er comme **chanter** et les verbes **être** et **avoir**

4  ** Associe le pronom personnel à la forme conjuguée qui convient.

- | | |
|-----------------------------|---------------------------------|
| je <input type="radio"/> | <input type="radio"/> coupait |
| j' <input type="radio"/> | <input type="radio"/> pleurais |
| il <input type="radio"/> | <input type="radio"/> avais |
| nous <input type="radio"/> | <input type="radio"/> jouiez |
| vous <input type="radio"/> | <input type="radio"/> marchions |
| elles <input type="radio"/> | <input type="radio"/> étaient |

- parents à
a. Hier, il (décoll
b. Autrefois, vo
c. L'été dernier
d. Les roses (pa

6 ** Réécris à la 1^{re} personne
a. J'étais malade
b. J'avais si cha
c. Je pleurais a
d. Je préparais

7 ** Réécris à la 3^e personne
a. Il était toujo
b. Il avait froid
c. Elle récitait
d. Elle collecti

8 ** Raccorde tu étais au C



Problèmes

Problèmes multiplicatifs

OBJECTIF : résoudre des problèmes multiplicatifs qui mettent en jeu un produit.

CALCUL MENTAL

Faire retrancher des dizaines entières ou des centaines entières à un nombre. Écrire la différence.

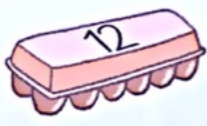
--	--	--	--	--	--


Dans son album, Adèle colle **12** images par page.
 Elle a rempli **4** pages.
Combien d'images Adèle a-t-elle collées en tout ?





Ce matin, un magasin a vendu **10** douzaines d'œufs.
Combien cela fait-il d'œufs en tout ?





Dans une salle d'école, deux classes de CE1 sont réunies
 pour assister à un spectacle de marionnettes.
 Il y a **6** rangées de **8** élèves.
Combien d'élèves assistent à ce spectacle ?





4 Lou découpe un quadrillage formé de **3** rangées de **8** carreaux.
Combien de carreaux y a-t-il sur ce quadrillage ?




101 Situer un nombre

CALCUL MENTAL

Problème : situations de comparaison.
« Léo a 9 €. Il a 4 € de moins que Jules.
Quelle somme possède Jules ? »


OBJECTIFS :
• situer et encadrer un nombre ;
• aborder la notion d'ordre de grandeur.


1 Observe l'exemple. Encadre chaque nombre par les dizaines les plus proches.



<input type="text"/>	284	<input type="text"/>	<input type="text"/>	367	<input type="text"/>
<input type="text"/>	229	<input type="text"/>	<input type="text"/>	432	<input type="text"/>

2 Colorie les nombres qui conviennent.

• 128 est plus près de $\begin{cases} 120 \\ 130 \end{cases}$  • 128 est plus près de $\begin{cases} 100 \\ 200 \end{cases}$



• 281 est plus près de $\begin{cases} 280 \\ 290 \end{cases}$  • 281 est plus près de $\begin{cases} 200 \\ 300 \end{cases}$



3 Écris deux nombres qui sont situés

• entre 240 et 250

240 250

• entre 400 et 410

400 410

4 Relie chaque opération à la centaine la plus proche du résultat.

$192 + 200$ •

$274 - 70$ •

• 200

• 300

• 400

D22

Saccage de tulipes

Le jardinier municipal est furieux. Quelqu'un a piétiné les massifs de tulipes qui sont à l'entrée du jardin des plantes.

« Les fleurs sont toutes écrasées », se lamente-t-il.

L'inspecteur Lafouine interroge trois personnes qui ont voulu s'enfuir quand la police est arrivée.

Gauthier qui porte des baskets blanches se défend : « Quand j'ai vu la police, j'ai cru qu'il y avait une bombe ».

Antoine qui porte des bottes boueuses répond : « Quand j'ai vu la police, j'ai pensé que ma voiture était mal garée ».

Fabien qui porte des souliers bien cirés explique : « Quand j'ai vu la police, j'ai voulu rejoindre mon fils qui jouait sur la balançoire ».

L'inspecteur Lafouine est bien content que la pluie tombe depuis deux jours.

Réponds :

Qui a des souliers cirés ?

C'est _____

Qui a des bottes boueuses ?

C'est _____

Qui a des baskets blanches ?

C'est _____

Qui est furieux ?

C'est _____

Qui est heureux qu'il pleuve ?

C'est _____

Joue à l'inspecteur.



La police recherche la personne qui, la nuit dernière, a mis des clous sur la route et provoqué de nombreuses crevaisons.

Charles, un témoin déclare : « J'ai vu une femme s'enfuir à vélo et entrer dans une maison du village ».

L'inspecteur Lafouine interroge les habitants de la maison.

Claire, la propriétaire, dit : « Je ne vois pas pourquoi la police me soupçonne ? »

Magali, la fille de Claire, est couchée après une grave opération du genou. Elle déclare : « La nuit dernière, j'ai pris mes médicaments puis j'ai dormi ».

Yvan, le mari de Claire, affirme : « Je n'ai rien à me reprocher. Je suis innocent ».

L'inspecteur Lafouine est certain de tenir la responsable des crevaisons.



Réponds :

Qui a vu une femme s'enfuir ?

C'est _____

Qui est Magali ?

C'est _____

Qui affirme être innocent ?

C'est _____

Qui est la propriétaire de la maison ?

C'est _____

Qui est certain de tenir la coupable ?

C'est _____

Joue à l'inspecteur.



L jardin d

« Les

se lame

L'insp

person

la police

Gaut

blanche

police, j

Antoi

boueuse

police, j

mal gar

Fabie

cirés ex

j'ai voul

sur la ba

L'insp

content

jours.
