


L'autruche est un oiseau qui ne peut pas voler. Il est le plus grand de tous les oiseaux vivant sur la Terre. Les autruches sont aussi des championnes de course à pied capables de courir à la vitesse de 80 kilomètres à l'heure ! Leurs plumes sont utilisées dans la fabrication de costumes.

**4** \*\* Dans chaque liste de déterminants se cache un intrus. Recopie les listes sans l'intrus.

- a. le • la • je • des • un
- b. ce • cette • nous • son • sa
- c. mes • mon • tes • ses • c'est
- d. un • une • des • les • laid

### Utiliser les déterminants

**5**  \* Associe les articles au nom qu'ils peuvent accompagner.



Il peut y avoir plusieurs solutions.

- |                           |                              |
|---------------------------|------------------------------|
| le <input type="radio"/>  | <input type="radio"/> plume  |
| l' <input type="radio"/>  | <input type="radio"/> bateau |
| la <input type="radio"/>  | <input type="radio"/> ours   |
| un <input type="radio"/>  |                              |
| une <input type="radio"/> |                              |
| des <input type="radio"/> |                              |

- c. ... matin
- d. ... éponge

**7** \*\* Complète les déterminants

le ma n

- a. ... petite soeur j'en ai assez !
- b. Va vite à ... ferme !
- c. ... soir, pour ... lampes.
- d. Nous avons ... au chocolat.
- e. ... cousin a ... allons bien n

**8** \* Fais ... dans cette



articles

indéfinis  
noms 2

2  
rayons •  
papier •  
2  
thèque •  
2  
franges

noms

peut pas  
es oiseaux  
sont aussi  
d capables  
omètres à  
es dans la

minants  
es sans

### Défi langue

Complète chaque article avec un nom qui convient. Comment as-tu choisi les mots ?

- |            |            |            |
|------------|------------|------------|
| a. les ... | c. l'...   | e. une ... |
| b. un ...  | d. des ... | f. le ...  |

GRAMMAIRE


**6** \* Complète chaque nom avec un déterminant qui convient.

- |                 |                |
|-----------------|----------------|
| a. ... horloge  | e. ... jardin  |
| b. ... tableaux | f. ... fusée   |
| c. ... matin    | g. ... erreurs |
| d. ... éponge   | h. ... image   |

**7** \*\* Complète les phrases avec les déterminants de la liste.

le ma mes mon la les des

- a. ... petite sœur prend toujours ... jouets, j'en ai assez !
- b. Va vite à ... boulangerie avant qu'elle ne ferme !
- c. ... soir, pour y voir plus clair, on allume ... lampes.
- d. Nous avons envie de manger ... gâteaux au chocolat.
- e. ... cousin arrive demain matin, nous allons bien nous amuser.



Utilise ton gabarit  
ou ton compas.

# Le cercle

**CALCUL MENTAL**

Problème : situations de comparaison.  
« John a 20 billes. Il a 4 billes de plus que Lise.  
Combien Lise a-t-elle de billes ? »


Quatre : aborder la construction d'un cercle avec un gabarit et, éventuellement, avec un compas.



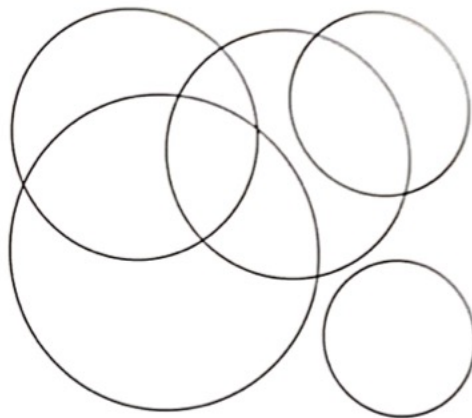
**1** Trace un cercle qui entoure les étoiles.

Règle des formes

Utilise la règle des formes.



**2** Combien de cercles vois-tu ?




Je vois ..... cercles.

**3** Lis la phrase puis trace le cercle.


Règle des formes

\* Le cercle est à l'intérieur du carré.

Le carré est à l'intérieur du cercle.



Utilise ton compas ou ta règle des formes.



**4** À partir des trois points, reproduis cette figure. Utilise la règle des formes.

