

Chers parents, chers enfants,

voici des exercices à réaliser aujourd'hui **VENDREDI 19 JUIN**

## Français :

### Exercice 1: Conjugaison

Complète ce texte avec les verbes conjugués à l'imparfait ou au passé composé.

Arsène le brigand ..... bien monter tout en haut de la statue, sur la place du village. Il ..... une canne à pêche pour voler toutes sortes de choses aux gens qui ..... dessous. Une fois ses poches remplies, il ..... au pied de la statue et s'..... Alors on ..... une idée : on ..... une grande partie de soldats de plomb. Arsène ..... ravi. C'était la première fois qu'il.....autant de soldats de plomb. Mais au fur et à mesure que ses poches ....., Arsène ..... . Sous le poids des soldats de plomb, il ..... par dégringoler tout en bas de son perchoir. Il ..... : "Pitié, pas la prison!" Pour se faire pardonner, il nous ..... tous nos soldats.	aimer utiliser  passer - sauter s'enfuir avoir-organiser être attraper se remplir glisser - finir  supplier rendre
-------------------------------------------------------------------------------------------------------------------------------------------------------------------------------------------------------------------------------------------------------------------------------------------------------------------------------------------------------------------------------------------------------------------------------------------------------------------------------------------------------------------------------------------------------------------------------------------------------------------------------------------------------------------------------------	--------------------------------------------------------------------------------------------------------------------------------------------------------

### Exercice 2 : Conjugaison

Avec les éléments proposés, construis une phrase en conjuguant les verbes au passé composé ou à l'imparfait.

- a/ Pendant que - prendre - décoller - une photo - j' - l'avion
- b/ téléphoner - au moment où - commencer - le film - vous
- c/ être - cueillir - qui - nous - les fraises - mures - seulement

### Exercice 3 : Grammaire

Dans le texte, ajoute un complément si la phrase est incomplète.

Aide toi des éléments suivants : à l'environnement. - à tous les emballages - inutiles - de notre comportement - l'eau - les transports en commun - mes déchets - mes habitudes

### **Sauver la planète**

Depuis quelque temps, je m'intéresse  
Notre planète souffre énormément  
J'ai décidé de modifier  
Je trierai  
et je renoncerai  
J'utiliserai  
je ne gaspillerai pas  
Pour la planète, chaque geste compte !

Souligne le sujet en bleu, le verbe en rouge. Encadre les compléments d'objet.

#### Exercice 4 : Grammaire

Ecris trois phrases au futur en utilisant un article défini, un article indéfini, un déterminant démonstratif et un déterminant possessif.

#### Exercice 5 : Vocabulaire

Trouve un adjectif qualificatif de la même famille que chacun de ces noms.

a/ le monde

b/ la lenteur

c/ la chaleur

d/ un accident

e/ l'hiver

f/ la joie

#### Exercice 6 : Orthographe. dictée

Mémorise tous les mots de la semaine.

#### Exercice 7 : Lecture orale

Je lis un texte en partie masqué. (Voir document joint)

+ Lis un chapitre d'un roman.

### **Mathématiques :**

#### Exercice 8 : Calcul

$$142,25 + 52,09 + 578\,267 =$$

$$57\,821,05 - 25,89 =$$

$$25,28 \times 8 =$$

$$694\,47,36 \times 37 =$$





### Exercice 9 : Numération

Ecris sous la forme d'un nombre à virgule.

$$\frac{3}{4} = \quad \frac{30}{10} = \quad \frac{39}{100} =$$

$$\frac{1}{2} = \quad \frac{587}{100} = \quad \frac{47}{10} =$$

### Exercice 10 : Grandeurs et mesures

<p>matin</p>  <p>A</p> <p>après-midi</p>  <p>B</p>	<p>Quelle heure indique l'horloge A ? .....</p> <p>Quelle heure indique l'horloge B? .....</p> <p>Calcule le temps qui s'est écoulé entre l'heure indiquée par l'horloge A et celle indiquée par l'horloge B : .....</p>
<p>matin</p>  <p>A</p> <p>matin</p>  <p>B</p>	<p>Quelle heure indique l'horloge A ? .....</p> <p>Quelle heure indique l'horloge B? .....</p> <p>Calcule le temps qui s'est écoulé entre l'heure indiquée par l'horloge A et celle indiquée par l'horloge B : .....</p>

### Exercice 11 : Résolution de problèmes

#### **Problème 1**

Un carnet de 10 timbres coûte 8 €.

Combien paiera une association pour envoyer les attestations d'adhésion à :

100 adhérents ?

50 adhérents ?

20 adhérents ?

#### **Problème 2**

Will fait des courses. Il achète  $\frac{1}{2}$  kg de raisins, 1 250 g de tomates, 250 g de beurre, 1 kg  $\frac{1}{2}$  de chou-fleur et 250 g de baguette.

Combien pèse son sac de courses en kg?

**Problème 3**

Thibault, Yasmine et Camille doivent distribuer équitablement 1 587 journaux dans la ville.  
Chacun va-t-il en distribuer?